



Évaluation N°3


« SLT »

Compétence 1 : « Analyser les conditions de l'opération et son contexte »

1. Que signifie SLT (3)?

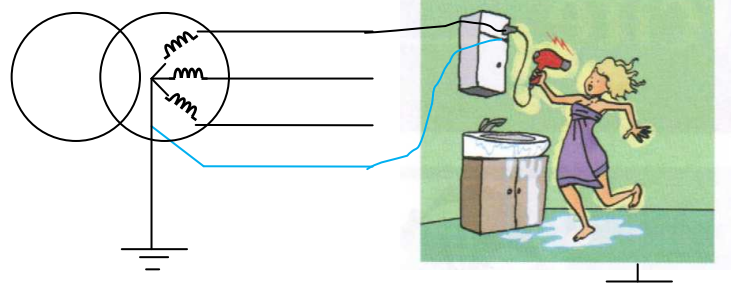
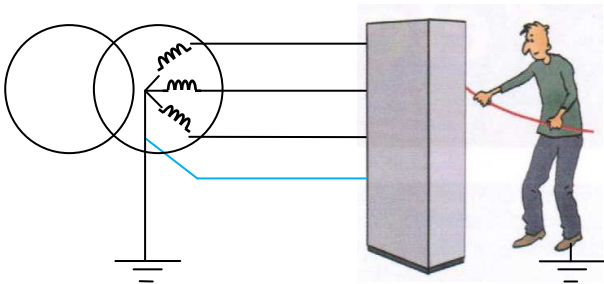
- S :
- L :
- T :

2. Pour chaque situation, déterminer la nature du contact (0.5) et tracer le parcours du courant de défaut et flécher **Id** (2) ?



contact direct contact indirect

contact direct contact indirect



contact direct contact indirect

contact direct contact indirect

3. Donner la formule de la loi d'OHM (2).

4. Que signifie DDR (3) ?

- D :
- D :
- R :

5. Que signifie TT du schéma de liaison à la terre(2)?

- T :
- T :

Évaluation N°3 « SLT » C1

Acquise (20-17)

Partiellement acquise (16-13)

En cours (12-10)

Non acquise (9-0)

Commentaire :